

Zestaw zadań dla I klasy szkoły podstawowej

Nazwa szkoły	
Klasa	
Nr w dzienniku	



Czas trwania konkursu: 60 minut

Życzymy miłej zabawy. Powodzenia!

Zadanie 1. Policz przedmioty, wpisz liczby, znaki „+” i „=” oraz sumę.

□ ○ □ □ □

□ ○ □ □ □

□ ○ □ □ □

Zadanie 2. Narysuj monety, którymi zapłacisz podaną kwotę.

12 gr	
25 gr	
18 gr	
9 gr	



___p/4p

Zadanie 3. Wstaw odpowiednie liczby.

$$\square + \square = 15$$

$$\square - \square = 15$$

$$\square + \square = 9$$

$$\square - \square = 9$$

___/4p

Zadanie 4. Uzupełnij właściwymi liczbami, aby równość była prawdziwa.

___/6p

$$2 + \underline{\quad} = 7 + 5$$

$$\underline{\quad} - 4 = 12 + 3$$

$$6 + \underline{\quad} = 15 - 7$$

$$9 + 8 = \underline{\quad} + 5$$

$$20 - 6 = 14 - \underline{\quad}$$

$$12 + \underline{\quad} = \underline{\quad} - 3$$

Konkurs Matematyczny "Puchacz Piotr"

Zadanie 5. Policz koszt zakupów.



4
ołówek



10
kolorowanka



6
gumka



7
pędzelek



8
jo-jo



kolorowanka

gumka



+



=



pędzelek

ołówek



+



=



jo-jo

pędzelek



+






=



p/3p

Zadanie 6. Wstaw liczby według odnalezionej zasady.

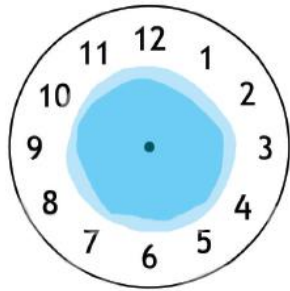


p/4p

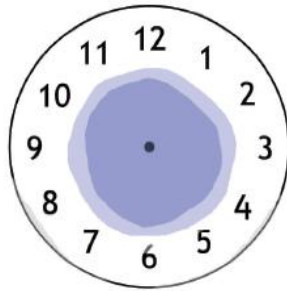


Konkurs Matematyczny "Puchacz Piotr"

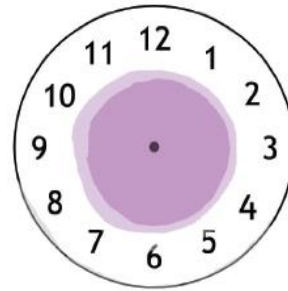
Zadanie 7. Zaznacz właściwe godziny na zegarach.



12³⁰




1³⁰



12⁰⁰

__p/3p

Zadanie 8. Nazwij figury i policz je.



	Nazwa	Na obrazku jest ich
	Trójkąt	5
		
		
		
		