

Zestaw zadań dla I klasy szkoły podstawowej


Numer w dzienniku	
Klasa	
Nazwa szkoły	



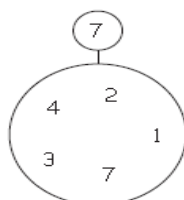
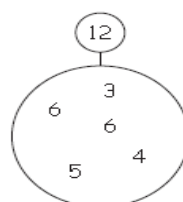
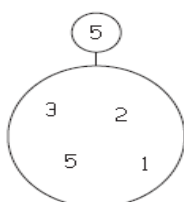
Czas trwania konkursu: 60 minut

Życzymy miłej zabawy. Powodzenia!

Zadanie 1. Do każdej flagi użyj tych samych 3 kolorów. Narysuj tyle różnych flag, ile tylko potrafisz.



Zadanie 2. W każdym dużym kole znajdź i zaznacz dwie liczby, które w sumie dają liczbę z małego kółka na górze.



## Konkurs Matematyczny "Puchacz Piotr"

**Zadanie 3.** W obu kieszeniach mam w sumie 14 koralików. Tabela pokazuje, ile kulek jest w każdej kieszeni. Uzupełnij brakujące liczby.



10	4	= 14
8	6	= 14
2		
	7	
13		
	5	
0		

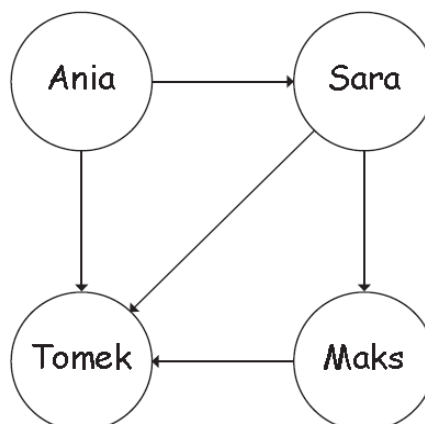
**Zadanie 4.** Znajdź zasadę i uzupełnij brakujące liczby.

$\begin{matrix} +4 & -3 \\ \curvearrowright & \curvearrowright \\ 2, & 6, & 3, & 7, & \_\_\_\_\_\_ & \_\_\_\_\_\_ & \_\_\_\_\_\_ & \_\_\_\_\_\_ & \_\_\_\_\_\_ & \_\_\_\_\_\_ \end{matrix}$

5, 4, 7, 6, 9, \_\_\_\_\_, \_\_\_\_\_, \_\_\_\_\_, \_\_\_\_\_, \_\_\_\_\_, \_\_\_\_\_

1, 6, 4, 9, 7, \_\_\_\_\_, \_\_\_\_\_, \_\_\_\_\_, \_\_\_\_\_, \_\_\_\_\_, \_\_\_\_\_

**Zadanie 5.** Strzałka zawsze wskazuje wyższe dziecko. Wypisz wszystkie imiona w kolejności od najniższego dziecka do najwyższego.



\_\_\_\_\_

Zadanie 6. Uzupełnij brakujące liczby, tak żeby każda równość była prawdziwa.

$$8 = 5 + \square = 12 - \square$$

$$14 = 6 + \square = 20 - \square$$

$$15 = 6 + \square = 19 - \square$$



Zadanie 7.

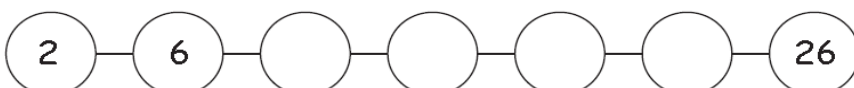
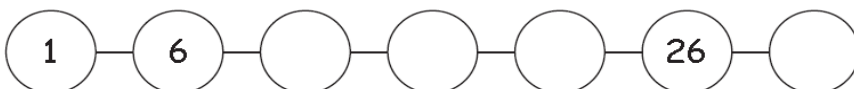
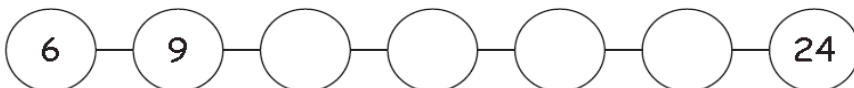
Na ile sposobów można zapłacić 10 „sówek”, używając monet



Narysuj jak najwięcej różnych sposobów. Możesz użyć każdej monety tyle razy, ile chcesz.

	= 10
	= 10
	= 10
	= 10
	= 10
	= 10
	= 10
	= 10

Zadanie 8. Wpisz brakujące liczby.



Zadanie 9.

Oblicz podane kwoty pieniędzy.

