


# Przygotowanie do Konkursu Puchacz Piotr klasa 1


imię i nazwisko




Zadanie 1. Dokończ rysunki, aby powstały zadane figury.




trójkąt



prostokąt



kwadrat

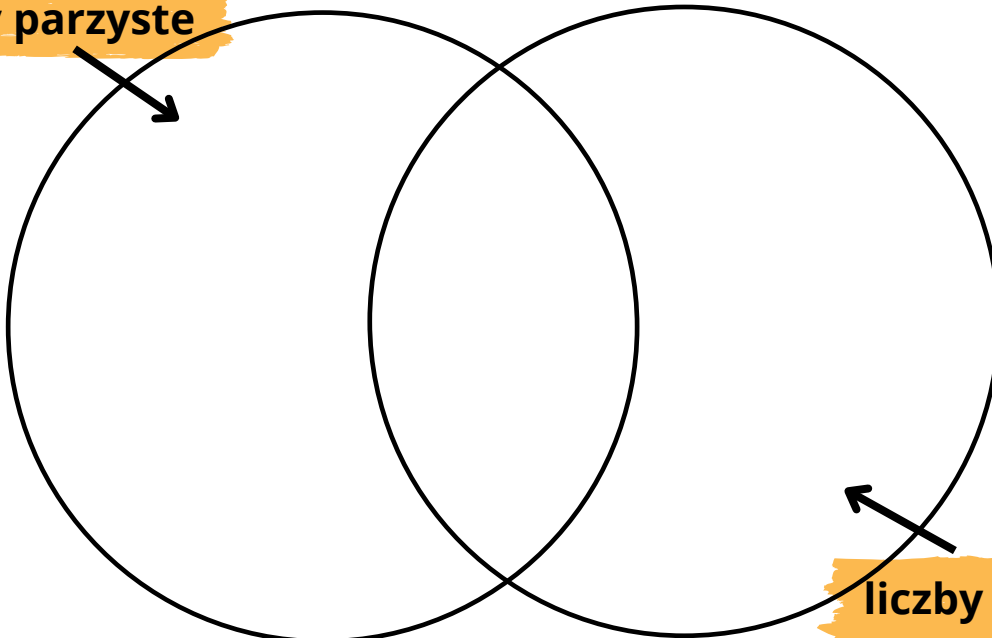


pięciokąt

Zadanie 2. Wpisz liczby we właściwe miejsca. Niektóre liczby mogą nie pasować do żadnego zbioru.

6 10 23 17 8 0 12 14 21 9 13

liczby parzyste



liczby większe niż 10

Zadanie 3. Wstaw odpowiednie liczby, aby równanie było poprawne.

$$18 - \square = 10 \quad 17 - 9 = \square$$

$$16 - \square = 8 \quad \square - 4 = 14$$

Zadanie 4. Wstaw odpowiednie liczby, aby równanie było poprawne.

$$\square + 9 + 3 = 14$$

$$\square + 8 + 7 = 20$$

$$5 + \square + 6 = 15$$

$$5 + 4 + 7 = \square$$

